



Überprüfe dein Wissen

Klasse 4

1 Ordne und schreibe die Zahlen auf.

a) 6 HT 6 H 5 T 3 Z 6 E 0 ZT

Zahl: _____ Zahlwort: _____

b) 5 HT 3 H 6 Z 0 T 2 ZT

Zahl: _____ Zahlwort: _____

muss ich
noch üben

2 Bilde mit den Ziffern 2, 5, 8, 7, 1, 3 die kleinstmögliche und die größtmögliche Zahl.

a) Die kleinstmögliche Zahl: _____

b) Die größtmögliche Zahl: _____

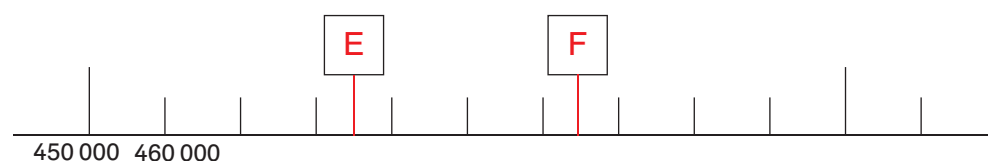
3 Schreibe zu der Zahl 325 650 auf:

a) Vorgänger _____ b) Nachfolger _____

c) Nachbartausender _____

d) Nachbarhunderttausender _____

4 a) Verbinde die Zahlenkärtchen so genau wie möglich mit dem Zahlenstrahl.



457 000 510 000 463 548 524 116

b) Wie heißen die Zahlen E und F?

E: _____ F: _____



7

Die Zahl heißt: _____

7

_____ < _____ < _____ < _____

7

7

9



b) Auf der Rolle von Nicole: _____

15 Bei einem Turnier wird ein Parcours aufgestellt. Es werden 7 Hütchen im Abstand von 2,20 m hintereinander aufgestellt. Jedes Hütchen hat einen Durchmesser von 25 cm. Die Startlinie ist 3 m vor dem ersten Hütchen und die Ziellinie 4,50 m nach dem letzten Hütchen. Wie lang ist die Strecke insgesamt?

Antwort: Die Strecke ist insgesamt _____ lang.

16 Rechne schriftlich. Gib das Ergebnis in kg an.

a) $742 \text{ g} + 6\,309 \text{ g} + 1 \text{ t} =$ _____

b) $782\,043\text{ g} - 3\,506\text{ g} =$ _____

c) $8\,073\text{ g} \cdot 14 =$ _____

d) $652\,832\text{ g} : 8 =$ _____

17 Auf einem Erdbeerfeld werden Erdbeeren in Schalen mit je 500 g oder in Körben mit je 2,5 kg Erdbeeren verkauft.
An einem Tag werden 45 Schalen zu je 1,90 € und 60 Körbe zu je 8,50 € verkauft.

a) Wie viel Geld wird eingenommen?

b) Wie viele Erdbeeren wurden verkauft? Gib in Kilogramm an.

Antwort a): _____

Antwort b): _____

9




- muss ich
noch üben

7

--	--

- 9



- a) die kleinste Menge:

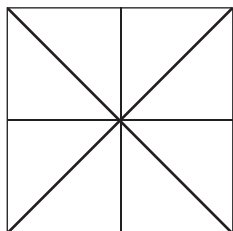


b) die größte Menge:

9



22 Wie viele Dreiecke siehst du?

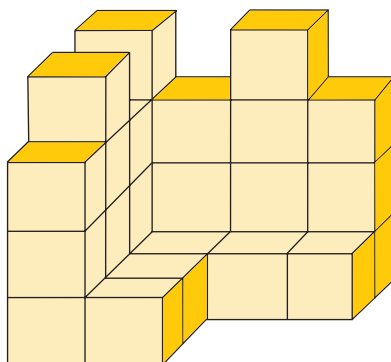


_____ Dreiecke


muss ich
noch üben

☐

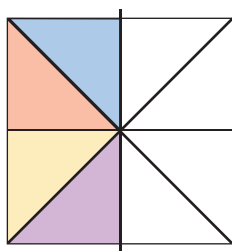
23 Aus wie vielen Würfeln besteht diese Figur? _____ Würfel
Fülle den Bauplan aus:



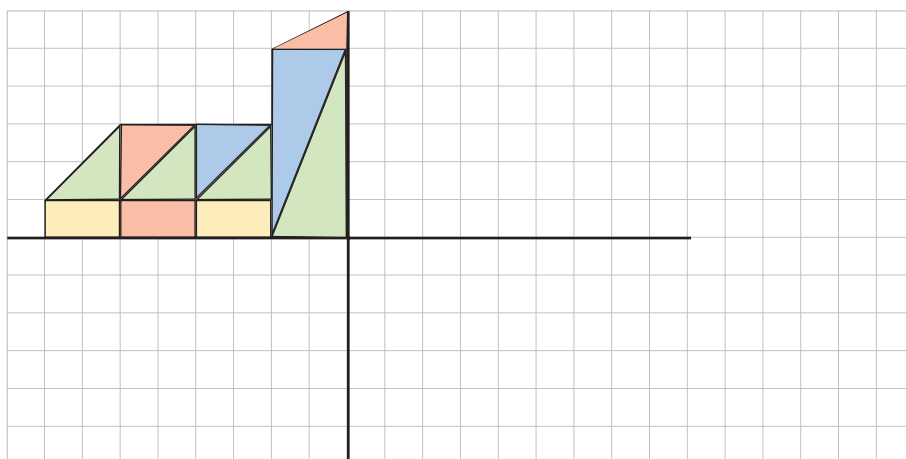
Bauplan:

☐

24 Ergänze zu einer drehsymmetrischen Figur.

☐

25 Spiegle an jeder Achse und färbe entsprechend ein.

☐